

ΑΡΧΗ 1ΗΣ ΣΕΛΙΔΑΣ

**ΕΙΣΑΓΩΓΙΚΕΣ ΕΞΕΤΑΣΕΙΣ
ΤΕΚΝΩΝ ΕΛΛΗΝΩΝ ΤΟΥ ΕΞΩΤΕΡΙΚΟΥ
ΚΑΙ ΤΕΚΝΩΝ ΕΛΛΗΝΩΝ ΥΠΑΛΛΗΛΩΝ ΣΤΟ ΕΞΩΤΕΡΙΚΟ
ΠΕΜΠΤΗ 13 ΣΕΠΤΕΜΒΡΙΟΥ 2007
ΕΞΕΤΑΖΟΜΕΝΟ ΜΑΘΗΜΑ ΘΕΤΙΚΗΣ ΚΑΤΕΥΘΥΝΣΗΣ:
ΦΥΣΙΚΗ
ΣΥΝΟΛΟ ΣΕΛΙΔΩΝ: ΕΞΙ (6)**

ΘΕΜΑ 1ο

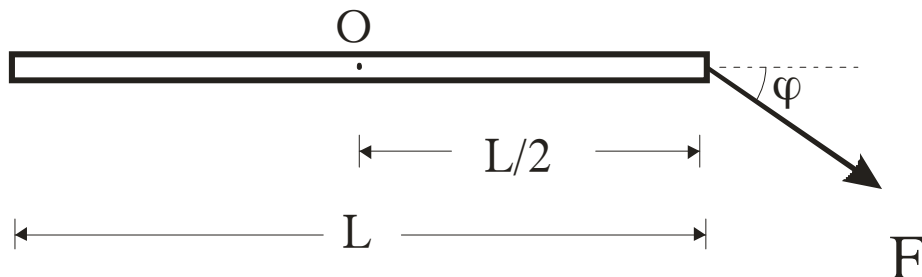
Στις ημιτελείς προτάσεις **1 έως και 4**, που ακολουθούν, να γράψετε στο τετράδιό σας τον αριθμό της βασικής φράσης και δίπλα του το γράμμα που αντιστοιχεί στο σωστό συμπλήρωμά της.

1. Μια ηλεκτρομαγνητική ακτινοβολία μήκους κύματος λ_0 και συχνότητας f_0 στο κενό, εισέρχεται από το κενό σε ένα οπτικό μέσο. Αν λ είναι το μήκος κύματος και f είναι η συχνότητα της ακτινοβολίας στο οπτικό μέσο, τότε,

α. $\lambda < \lambda_0$. β. $\lambda > \lambda_0$. γ. $f < f_0$. δ. $f > f_0$.

Μονάδες 5

2. Η ράβδος του σχήματος έχει μήκος L και μπορεί να στρέφεται γύρω από άξονα που διέρχεται από το μέσο της O και είναι κάθετος σε αυτή.



Η ροπή της δύναμης F ως προς το σημείο O έχει μέτρο

α. 0 . β. $F \frac{L}{2}$. γ. $F \frac{L}{2} \sin \varphi$. δ. $F \frac{L}{2} \eta \mu \varphi$.

Μονάδες 5

3. Μια ανελαστική κρούση μεταξύ δύο σωμάτων χαρακτηρίζεται ως πλαστική όταν,

α. η ορμή του συστήματος δεν διατηρείται.

ΑΡΧΗ 2ΗΣ ΣΕΛΙΔΑΣ

- β. τα σώματα μετά την κρούση κινούνται χωριστά.
- γ. η ολική κινητική ενέργεια του συστήματος διατηρείται.
- δ. οδηγεί στη συγκόλληση των σωμάτων, δηλαδή στη δημιουργία συσσωματώματος.

Μονάδες 5

4. Ένας παρατηρητής βρίσκεται ακίνητος στην αποβάθρα ενός σταθμού την ώρα που πλησιάζει ένα τρένο, το οποίο κινείται με σταθερή ταχύτητα. Η σειρήνα του τρένου εκπέμπει ήχο συχνότητας f_s . Η συχνότητα του ήχου που αντιλαμβάνεται ο παρατηρητής είναι
- α. ίση με τη συχνότητα του ήχου που αντιλαμβάνεται ο μηχανοδηγός του τρένου.
 - β. μεγαλύτερη από τη συχνότητα του ήχου που αντιλαμβάνεται ο μηχανοδηγός του τρένου.
 - γ. μικρότερη από τη συχνότητα του ήχου που αντιλαμβάνεται ο μηχανοδηγός του τρένου.
 - δ. ίση με τη συχνότητα του ήχου που εκπέμπει η σειρήνα του τρένου.

Μονάδες 5

5. Να χαρακτηρίσετε αν το περιεχόμενο των ακόλουθων προτάσεων είναι **Σωστό** ή **Λανθασμένο**, γράφοντας στο τετράδιό σας την ένδειξη (**Σ**) ή (**Λ**) δίπλα στο γράμμα που αντιστοιχεί στην κάθε πρόταση.
- α. Η ολική ενέργεια σε ιδανικό κύκλωμα ηλεκτρικών ταλαντώσεων LC είναι ανάλογη με το φορτίο του πυκνωτή.
 - β. Σε ένα στάσιμο κύμα τα σημεία με μηδενικό πλάτος ταλάντωσης ονομάζονται δεσμοί του στάσιμου κύματος.
 - γ. Αν η συνολική εξωτερική ροπή που ασκείται σε ένα σύστημα σωμάτων είναι ίση με μηδέν, η ολική στροφορμή του συστήματος μεταβάλλεται.

- δ. Το έργο της δύναμης που προκαλεί την απόσβεση σε μια φθίνουσα μηχανική ταλάντωση είναι πάντα θετικό.
- ε. Μικρή σφαίρα, που κινείται ευθύγραμμα και ομαλά σε οριζόντιο επίπεδο, συγκρούεται ελαστικά και πλάγια με κατακόρυφο τοίχο. Στην περίπτωση αυτή η γωνία πρόσπτωσης της σφαίρας είναι ίση με τη γωνία ανάκλασης.

Μονάδες 5

ΘΕΜΑ 2ο

- 2.1. Στα κάτω άκρα δύο κατακόρυφων ελατηρίων Α και Β των οποίων τα άλλα άκρα είναι ακλόνητα στερεωμένα, ισορροπούν δύο σώματα με ίσες μάζες. Απομακρύνουμε και τα δύο σώματα προς τα κάτω κατά d και τα αφήνουμε ελεύθερα, ώστε αυτά να εκτελούν απλή αρμονική ταλάντωση. Αν η σταθερά του ελατηρίου Α είναι τετραπλάσια από τη σταθερά του ελατηρίου Β, ποιος είναι τότε ο λόγος των μέγιστων ταχυτήτων $\frac{v_{A,max}}{v_{B,max}}$ των δύο σωμάτων;

- α. $\frac{1}{2}$ β. 1 γ. 2

Να επιλέξετε το γράμμα που αντιστοιχεί στη σωστή απάντηση.

Μονάδες 2

Να δικαιολογήσετε την επιλογή σας.

Μονάδες 6

- 2.2. Δύο σώματα Α και Β, με μάζες $3m$ και m αντίστοιχα, βρίσκονται ακίνητα πάνω σε λείο οριζόντιο επίπεδο. Δίνουμε στο σώμα Β αρχική ταχύτητα v έτσι ώστε να συγκρουστεί κεντρικά και ελαστικά με το ακίνητο σώμα Α. Ποια είναι η ταχύτητα του σώματος Β μετά την κρούση;

α. $-\frac{v}{2}$

β. $\frac{v}{2}$

γ. $\frac{v}{4}$

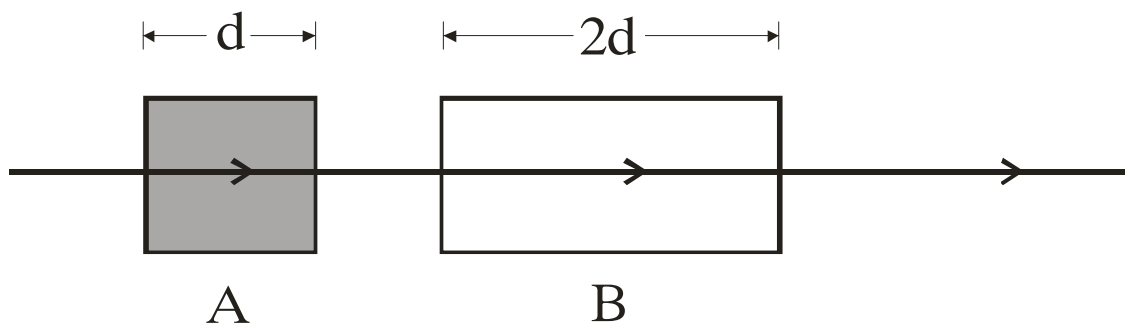
Να επιλέξετε το γράμμα που αντιστοιχεί στη σωστή απάντηση.

Μονάδες 2

Να δικαιολογήσετε την επιλογή σας.

Μονάδες 6

- 2.3. Μονοχρωματική ακτινοβολία με μήκος κύματος λ_0 στο κενό, διαπερνά κάθετα δύο πλακίδια Α και Β, όπως φαίνεται στο σχήμα. Τα δύο πλακίδια βρίσκονται στο κενό.



Το πάχος του πλακιδίου Β είναι διπλάσιο από το πάχος του πλακιδίου Α και η ακτινοβολία τα διαπερνά σε ίσους χρόνους. Αν λ_A και λ_B είναι τα μήκη κύματος αυτής της ακτινοβολίας μέσα στα πλακίδια Α και Β αντίστοιχα, τότε

α. $\frac{\lambda_A}{\lambda_B} = 2$

β. $\frac{\lambda_A}{\lambda_B} = \frac{1}{2}$

γ. $\frac{\lambda_A}{\lambda_B} = \frac{1}{4}$

Να επιλέξετε το γράμμα που αντιστοιχεί στη σωστή σχέση.

Μονάδες 2

Να δικαιολογήσετε την επιλογή σας.

Μονάδες 7

ΘΕΜΑ 3ο

Κατά μήκος ομογενούς γραμμικού ελαστικού μέσου που έχει τη διεύθυνση του άξονα x, όπως φαίνεται στο σχήμα, διαδίδεται



ΑΡΧΗ 5ΗΣ ΣΕΛΙΔΑΣ

εγκάρσιο αρμονικό κύμα, το οποίο περιγράφεται από την εξίσωση:

$$y = 0,05 \eta\mu 2\pi (2t - 5x) \quad (\text{S.I.})$$

Να υπολογίσετε:

α. τη συχνότητα και την ταχύτητα διάδοσης του κύματος.

Μονάδες 6

β. τη μέγιστη επιτάχυνση ταλάντωσης των σημείων του ελαστικού μέσου στο οποίο διαδίδεται το κύμα.

Μονάδες 6

γ. την απόσταση μεταξύ δύο σημείων του ελαστικού μέσου τα οποία βρίσκονται στον θετικό ημιάξονα Ox και παρουσιάζουν την ίδια χρονική στιγμή διαφορά φάσης $\frac{5\pi}{2}$ rad.

Μονάδες 6

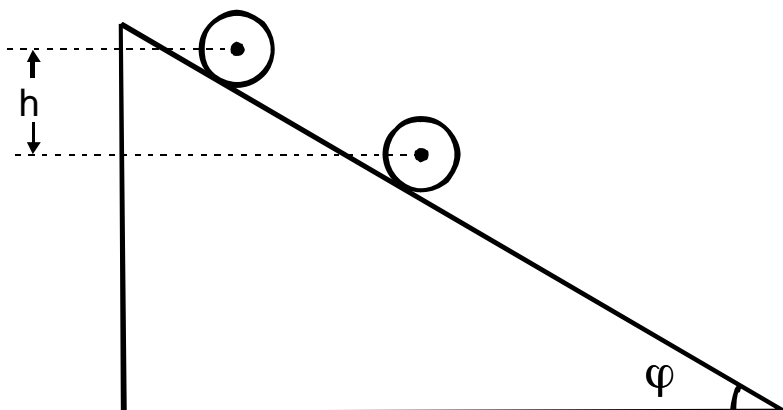
δ. την ταχύτητα ταλάντωσης, τη χρονική στιγμή $t = 1,5$ s ενός σημείου του ελαστικού μέσου το οποίο βρίσκεται στον θετικό ημιάξονα Ox και απέχει από την αρχή O ($x=0$) απόσταση $0,3$ m.

Μονάδες 7

Δίνονται: $\pi = 3,14$ και $\pi^2 \approx 10$.

ΘΕΜΑ 4ο

Ένας ομογενής και συμπαγής κύλινδρος μάζας $M = 2$ kg και ακτίνας $R = 0,2$ m αφήνεται να κυλήσει κατά μήκος ενός πλάγιου επιπέδου γωνίας κλίσης φ , με $\eta\mu\varphi = 0,6$, όπως φαίνεται στο σχήμα:



Ο κύλινδρος κυλίνεται χωρίς να ολισθαίνει.

ΑΡΧΗ 6ΗΣ ΣΕΛΙΔΑΣ

Να υπολογίσετε:

- α. το μέτρο της επιτάχυνσης του κέντρου μάζας του κυλίνδρου καθώς αυτός κυλίνεται.

Μονάδες 7

- β. το μέτρο της δύναμης της στατικής τριβής που ασκείται στον κύλινδρο από το πλάγιο επίπεδο.

Μονάδες 6

- γ. το μέτρο της στροφορμής του κυλίνδρου κατά τον άξονά του, όταν η κατακόρυφη μετατόπιση του κέντρου μάζας του κυλίνδρου από το σημείο που αυτός αφέθηκε ελεύθερος είναι $h_1 = 4,8 \text{ m}$.

Μονάδες 6

- δ. το πλήθος των περιστροφών που εκτελεί ο κύλινδρος από τη στιγμή που αφήνεται ελεύθερος μέχρι τη στιγμή που το κέντρο μάζας του έχει μετατοπιστεί κατακόρυφα κατά $h_2 = 2,4\pi \text{ m}$.

Μονάδες 6

Δίνονται: Η ροπή αδράνειας του κυλίνδρου ως προς τον άξονά του

$$I = \frac{1}{2}MR^2 \text{ και η επιτάχυνση της βαρύτητας } g = 10 \text{ m/s}^2 .$$

ΟΔΗΓΙΕΣ ΠΡΟΣ ΤΟΥΣ ΥΠΟΨΗΦΙΟΥΣ

1. Στο τετράδιο να γράψετε μόνο τα προκαταρκτικά (ημερομηνία, κατεύθυνση, εξεταζόμενο μάθημα). Να μην αντιγράψετε τα θέματα στο τετράδιό σας.
2. Να γράψετε το ονοματεπώνυμό σας στο επάνω μέρος των φωτοαντιγράφων αμέσως μόλις σας παραδοθούν. Δεν επιτρέπεται να γράψετε οποιαδήποτε άλλη σημείωση. Κατά την αποχώρησή σας να παραδώσετε μαζί με το τετράδιο και τα φωτοαντίγραφα.
3. Να απαντήσετε **στο τετράδιό σας** σε όλα τα θέματα.
4. Κάθε απάντηση επιστημονικά τεκμηριωμένη είναι αποδεκτή.
5. Διάρκεια εξέτασης: Τρεις (3) ώρες μετά τη διανομή των φωτοαντιγράφων.
6. Χρόνος δυνατής αποχώρησης: Μία (1) ώρα μετά τη διανομή των φωτοαντιγράφων.

ΕΥΧΟΜΑΣΤΕ ΕΠΙΤΥΧΙΑ

ΤΕΛΟΣ ΜΗΝΥΜΑΤΟΣ

ΤΕΛΟΣ 6ΗΣ ΣΕΛΙΔΑΣ